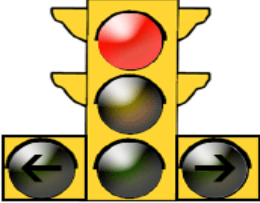
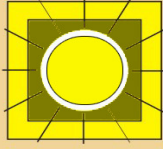























S.NO.	QUESTIONS	RELEVANT FIGURE/SIGN IF ANY	OPTION1	OPTION2	OPTION3	OPTION4	ANSWER OPTION
1	2	0	3	4	5	6	7
1	ఎరుపు రంగు (రెడ్) సిగ్నల్ పడిందంటే ఏమని అర్థం ?		తెల్లటి స్టాప్ లైన్ దాటకుండా ఆగాలని అర్థం	ఇతర వాహనాలు ఏవీ లేనప్పుడు ముందుకు వెళ్లమని అర్థం	ఏ ప్రమాదమూ ఎదురవ్వదనిపిస్తే ఎడమ పక్కకు తిరగమని అర్థం	మీ వ్యతిరేక దిశలో ట్రాఫిక్ మొదలైతే వెంటనే ఆగేందుకు వీలుగా మీరు వేగాన్ని తగ్గించాలని అర్థం	1
2	పసుపు రంగు లైటు ప్లాష్ అవుతున్న ఒక జంక్షన్ ఎదురైనప్పుడు ఏంచేయాలి ?		వేగాన్ని తగ్గించి జాగ్రత్తగా ముందుకెళ్లాలి	ప్రవేశం లేదు	ఆగిపోవాలి	పైవి ఏవి కాదు	1
3	ఎరుపు రంగు లైట్ ప్లాష్ అవుతున్న ఒక జంక్షన్ ఎదురైనప్పుడు ఏం చేయాలి?		ఆగడానికి	ఎర్రటి సూర్యుడు	ఆగి చుట్టుప్రక్కల చూసి జాగ్రత్తగా వెళ్లాలి	పైవి ఏవి కాదు	3
4	ఈ ఆకారంలో ఉండే గుర్తు దేనిని సూచిస్తుంది		తప్పనిసరి ఆదేశాలను	జాగ్రత్త పరిచేవి	సమాచారం కోసం	పైవి అన్ని	1
5	త్రికోణంలో ఇచ్చిన గుర్తులు దేనికి సంకేతం		ఖచ్చితంగా పాటించాలి	జాగ్రత్త పరిచేవి	సమాచారం కోసం	పైవి అన్ని	2
6	ఈ ఆకారంలో ఉండే గుర్తు దేనిని సూచిస్తుంది		తప్పనిసరి ఆదేశాలను	హెచ్చరికలు	సమాచారం కోసం	పైవి అన్ని	3








7	ఈచిహ్నం అర్థమేమిటి ?		ఆగండి	ఒక ప్రక్కమాత్రమే వెళ్ళాలి	వాహనాలు నిలుపరాదు	ఇక్కడ ఆగరాదు	1
8	ఈచిహ్నం అర్థమేమిటి ?		ఎడమ చేతి మలుపు	సమాచారం కోసం	హెచ్చరిక గుర్తు	దారి ఇవ్వాలి	4
9	నువ్వు రోడ్డు మధ్యలోకి వెళ్ళక నువ్వు ఒక వైపు మాత్రమే ప్రవేశం ఉన్న రోడ్డులో ఉన్నావని తెలుసుకున్నావు. అప్పుడు నువ్వు ఏమిచేస్తావు		ఆ రోడ్డు నుంచి వెనుకకు తిరిగి వస్తావు	హారన్ కోట్టుకొంటూ ముందుకు వెళ్ళావు	రోడ్డు చివరకు వెళ్ళావు	అనుమతించిన రోడ్డులోకి మారతావు	3
10	ఈచిహ్నం అర్థమేమిటి ?		ఒక వైపు ప్రవేశం మాత్రమే	రెండు వైపులా ఎటువంటి వాహనాలకు ప్రవేశం లేదు	కుడి మలుపు నిషేధం	వైచి ఏచి కాదు	1
11	ఈచిహ్నం అర్థమేమిటి ?		ప్రవేశం లేదు	ఒక వైపు ప్రవేశం మాత్రమే	ఖచ్చితంగా ముందుకు వెళ్ళాలి	ఎడమవైపునకు తిరగరాదు	1
12	ఈచిహ్నం అర్థమేమిటి ?		రెండు వైపులా ఎటువంటి వాహనాలకు ప్రవేశం లేదు	ఎడమవైపునకు తిరగరాదు	ఓవర్ టేకింగ్ చెయ్యరాదు	కుడి వైపునకు తిరగరాదు	1
13	ఈచిహ్నం అర్థమేమిటి ?		సైకిల్స్ కి ప్రవేశం లేదు	ట్రక్స్ కు ప్రవేశం లేదు	కుడి వైపునకు తిరుగుట నిషేధం	ఎడమవైపునకు తిరగరాదు	3








14	ఈచిహ్నం అర్థమేమిటి ?		ఎడమవైపునకు తిరగరాదు	కుడి వైపునకు తిరగరాదు	యు టర్న్ తిరగరాదు	ఓవర్టికింగ్ చెయ్యరాదు	3
15	ఈచిహ్నం అర్థమేమిటి ?		ట్రక్స్ కు ప్రవేశం లేదు	అన్ని రకముల మోటారు వాహనాలకు ప్రవేశం లేదు	ఎడ్డుల బండ్లకు ప్రవేశం లేదు	సైకిల్స్ కి ప్రవేశం లేదు	2
16	ఈచిహ్నం అర్థమేమిటి ?		ముందు వెళ్ళు వాహనములను దాటుట నిషేధం	ఎడమవైపునకు తిరగరాదు	కుడి వైపునకు తిరగరాదు	రెండు వైపుల ఎటువంటి వాహనములకు ప్రవేశం లేదు	1
17	ఈచిహ్నం అర్థమేమిటి ?		పొగత్రాగరాదు	కుడి వైపునకు తిరగరాదు	సైకిల్స్ కి ప్రవేశం లేదు	హారన్ మ్రోగిందరాదు	4
18	ఈచిహ్నం అర్థమేమిటి ?		పాదదారులకు ప్రవేశం లేదు	స్కూల్ జోన్	ఆటల జోన్	వైవి వివి కాదు	1
19	ఈచిహ్నం అర్థమేమిటి ?		సైకిల్స్ రహదారి	సైకిల్స్ కి ప్రవేశం లేదు	సైకిల్స్ నిలుపు ప్రదేశం	వైవి వివి కాదు	2
20	ఈచిహ్నం అర్థమేమిటి ?		వాహనములకు ప్రవేశం లేదు	ట్రక్స్ పార్కింగ్	కొండ మార్గము	ట్రక్స్ కు ప్రవేశం లేదు	4








21	ఈచిహ్నం అర్థమేమిటి ?		ఆగరాదు	నిబంధనలు ముగింపు	వాహనములు నిలుపరాదు	వేగ నియంత్రణ	3
22	ఈచిహ్నం అర్థమేమిటి ?		నేపార్కింగ్	వాహనములు నిలుపరాదు మరియు ఆపరాదు	పోడవు యొక్క పరిమితి	వేగ నియంత్రణ	2
23	ఈచిహ్నం అర్థమేమిటి ?		ఆగుము	నిబంధనలు ముగింపు	ప్రవేశం లేదు	నేపార్కింగ్	2
24	ఈచిహ్నం అర్థమేమిటి ?		పోడవు యొక్క పరిమితి	వేగ నియంత్రణ	లోడ్ పరిమితము	ఎత్తు యొక్క పరిమితి	1
25	ఈచిహ్నం అర్థమేమిటి ?		బరువు నియంత్రణ	వేగ నియంత్రణ	వాహనాల పోడవు నియంత్రణ	ఎత్తు యొక్క పరిమితి	2
26	ఈచిహ్నం అర్థమేమిటి ?		ఇరుసు బరువు పరిమితి	ఎత్తు పరిమితి	వెడల్పు పరిమితి	బరువు పరిమితి	4
27	ఈచిహ్నం అర్థమేమిటి ?		వాహనాల పోడవు పరిమితి	వేగ పరిమితి	బరువు పరిమితి	ఎత్తు పరిమితి	4








28	ఈచిహ్నం అర్థమేమిటి ?		ఎత్తు పరిమితి	వేగ పరిమితి	వెడల్పు పరిమితి	ఎత్తు పరిమితి	3
29	ఈచిహ్నం అర్థమేమిటి ?		ఇరుసు బరువు పరిమితి	వెడల్పు పరిమితి	బరువు పరిమితి	ఎత్తు పరిమితి	1
30	ఈచిహ్నం అర్థమేమిటి ?		ఒక వైపు ప్రవేశం మాత్రమే	ఎడమ వైపుకు తిరగరాదు	ఖచ్చితంగా ఎడమవైపు నుండి వెళ్ళాలి	ముందుకు మాత్రమే వెళ్ళాలి	3
31	ఈచిహ్నం అర్థమేమిటి ?		ఖచ్చితంగా ఎడమవైపు నుండి వెళ్ళాలి	తీన్మగా ముందుకు మాత్రమే వెళ్ళాలి	ఎడమ వైపుకు తిరగాలి	కుడివైపునకు తిరగాలి	2
32	ఈచిహ్నం అర్థమేమిటి ?		ముందుకు మాత్రమే వెళ్ళాలి	ఎడమ వైపునకు తిరిగి ముందుకు వెళ్ళాలి	తప్పని సరిగా ముందు కుడివైపునకు తిరగాలి	ముందుకు వెళ్ళాలి లేదా ఎడమ వైపునకు తిరగాలి	3
33	ఈచిహ్నం అర్థమేమిటి ?		కుడి వైపు మలుపు	కుడివైపునకు తిరగాలి	తప్పని సరిగా ముందు ఎడమ వైపునకు తిరగాలి	వైచి ఏచి కాదు	3
34	ఈచిహ్నం అర్థమేమిటి ?		తప్పని సరిగా ఎడమ వైపునకు తిరగాలి	కుడివైపునకు తిరగాలి	ముందుకు వెళ్ళాలి లేదా ఎడమ వైపునకు తిరగాలి	ముందుకు వెళ్ళాలి లేదా కుడి వైపునకు తిరగాలి	1




35	ఈచిహ్నం అర్థమేమిటి ?		కుడి వైపు మలుపు	తప్పని సరిగా కుడి వైపునకు తిరగాలి	ఎడమ వైపునకు తిరగాలి	పైవి ఏవి కాదు	2
36	ఈచిహ్నం అర్థమేమిటి ?		తప్పని సరిగా ముందుకు వెళ్ళాలి లేదా ఎడమ వైపునకు వెళ్ళాలి	ముందుకు వెళ్ళాలి లేదా కుడివైపునకు తిరగాలి	కుడి వైపునకు తిరగరాదు	ఎడమ వైపునకు తిరగాలి	1
37	ఈచిహ్నం అర్థమేమిటి ?		ఎడమ వైపునకు తిరగాలి	కుడివైపునకు తిరగాలి	ముందుకు వెళ్ళాలి లేదా ఎడమ వైపునకు వెళ్ళాలి	తప్పని సరిగా ముందుకు వెళ్ళాలి లేదా కుడివైపునకు తిరగాలి	4
38	ఈచిహ్నం అర్థమేమిటి ?		తప్పని సరిగా హోరను స్త్రోగించాలి	హోరన్ స్త్రోగించరాదు	పొగత్రాగరాదు	పైవి ఏవి కాదు	1
39	ఈచిహ్నం అర్థమేమిటి ?		సైకిల్స్ మార్గము	స్కూలు జోన్	సైకిల్స్ కి ప్రవేశం లేదు	పైవి ఏవి కాదు	1
40	ఈచిహ్నం అర్థమేమిటి ?		సైకిల్స్ కు మాత్రమే ప్రవేశం	సైకిల్స్ కు ప్రవేశం లేదు	సైకిల్స్ ట్రాక్	సైకిళ్లు దాటి ప్రదేశం	4
41	ఈచిహ్నం అర్థమేమిటి ?		కుడివైపునకు వంగినమార్గం	ఎడమవైపునకు వంగినమార్గం	కుడివైపు హాయిర్పిన్ వంటి వంపు	ఎడమవైపు హాయిర్పిన్ వంటి వంపు	1

42	ఈచిహ్నం అర్థమేమిటి ?		కుడివైపునకు వంగినమార్గం	ఎడమవైపునకు వంగినమార్గం	కుడివైపున వెనుకకు తిరిగిన మలుపు	ఎడమవైపున వెనుకకు తిరిగిన మలుపు	2
43	ఈచిహ్నం అర్థమేమిటి ?		కుడివైపు హాయిరపిన్ వంటి వంపు	ఎడమవైపు హాయిరపిన్ వంటి వంపు	కుడివైపున వెనుకకు తిరిగిన మలుపు	ఎడమవైపున వెనుకకు తిరిగిన మలుపు	1
44	ఈచిహ్నం అర్థమేమిటి ?		ఎడమవైపు హాయిరపిన్ వంటి వంపు	కుడివైపు హాయిరపిన్ వంటి వంపు	ఎడమవైపునకు వంగినమార్గం	కుడివైపునకు వంగినమార్గం	1
45	ఈచిహ్నం అర్థమేమిటి ?		కుడివైపునకు వంగినమార్గం	ఎడమవైపునకు వంగినమార్గం	ముందు కుడి మెలిక రోడ్డు ఉన్నది	కుడివైపు హాయిరపిన్ వంటి వంపు	3
46	ఈచిహ్నం అర్థమేమిటి ?		ఎక్కువ వాలుగా కిందకు దిగడం	పైకి నిట్ట నిలువుగా ఉన్న దారి	జారుడు రోడ్డు	ఎత్తుగా లేదా గతుకులుగా ఉన్నరోడ్డు	2
47	ఈచిహ్నం అర్థమేమిటి ?		ఎక్కువ వాలుగా పైకి ఎక్కడం	కిందకి నిట్ట నిలువుగా ఉన్న దారి	ఇరుకురోడ్డు ముందుంది	ఇరుకు వంతెన	2
48	ఈచిహ్నం అర్థమేమిటి ?		ఇరుకురోడ్డు ముందుంది	వెడల్పు రోడ్డు ముందుంది	ఇరుకు వంతెన	జారుడు రోడ్డు	1






49	ఈచిహ్నం అర్థమేమిటి ?		ఇరుకురోడ్డు ముందుంది	వెడల్పు రోడ్డు ముందుంది	ఇరుకు వంతెన	జారుడు రోడ్డు	2
50	ఈచిహ్నం అర్థమేమిటి ?		ఇరుకురోడ్డు ముందుంది	వెడల్పు రోడ్డు ముందుంది	ఇరుకు వంతెన	జారుడు రోడ్డు	3
51	ఈచిహ్నం అర్థమేమిటి ?		జారుడు రోడ్డు	వదులైన మట్టి రోడ్డు	రెండు మూడు మార్గాలు కలిసిన ప్రదేశం	ఎత్తుగా లేదా గతుకులుగా ఉన్నరోడ్డు	1
52	ఈచిహ్నం అర్థమేమిటి ?		ఇరుకు వంతెన	జారుడు రోడ్డు	వదులైన మట్టి రోడ్డు	ఎక్కువ వాలుగా కిందకు దిగడం	3
53	ఈచిహ్నం అర్థమేమిటి ?		స్కూలు ముందుంది	మనుషులు పని చేయుచున్నారు	సైకిళ్లు దాటే ప్రదేశం	పాదచారులు దాటే ప్రదేశం	4
54	ఈచిహ్నం అర్థమేమిటి ?		సైకిళ్లు దాటే ప్రదేశం	స్కూలు ముందుంది	మనుషులు పని చేయుచున్నారు	పాదచారులు దాటే ప్రదేశం	2
55	ఈచిహ్నం అర్థమేమిటి ?		మార్గం మూసుకుపోయింది	ప్రమాదకరంగా కిందికి దిగిన రోడ్డు	మనుషులు పని చేయుచున్నారు	ప్రధాన మార్గం ముందుంది	3

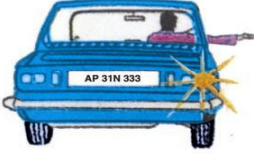
56	ఈచిహ్నం అర్థమేమిటి ?		పైనుండి రాళ్లుపడే ప్రదేశం	ఎక్కువ వాలుగా పైకి ఎక్కడం	ఎత్తుగా లేదా గతుకులుగా ఉన్నరోడ్డు	వదులైన మట్టి రోడ్డు	1
57	ఈచిహ్నం అర్థమేమిటి ?		అటంకం ముందుంది	ముందుకు మార్గం నిషేధం	నాలుగు రోడ్ల కూడలి	రైల్వే క్రాసింగ్ ముందువున్నది	3
58	ఈచిహ్నం అర్థమేమిటి ?		మధ్యలో ఖాళీ ఉంది	కుడిపుక్కన రోడ్డు ఉంది	ఎడమ పక్కరోడ్డు ఉన్నది	రెండు మూడు మార్గాలు కలిసే ప్రదేశం	1
59	ఈచిహ్నం అర్థమేమిటి ?		రెండు మూడు మార్గాలు కలిసే ప్రదేశం	చుట్టూ తిరిగి వెళ్లండి	క్రాస్ రోడ్డు ముందువున్నది	ఎడమ పక్కరోడ్డు ఉన్నది	2
60	ఈచిహ్నం అర్థమేమిటి ?		ప్రమాదకరమైన గొయ్యి	రెండు మూడు మార్గాలు కలిసే ప్రదేశం	వై ఆకారపు కూడలి	ప్రధాన మార్గం ముందుంది	4
61	ఈచిహ్నం అర్థమేమిటి ?		ప్రమాదకరమైన గొయ్యి ఉన్నది	ప్రధాన మార్గం ముందుంది	వై ఆకారపు కూడలి	రెండు మూడు మార్గాలు కలిసే ప్రదేశం	1
62	ఈచిహ్నం అర్థమేమిటి ?		మార్గం మూసుకుపోయింది	వేగం నియంత్రించు గతుకుల రోడ్డు	ప్రధాన మార్గం ముందుంది	రెండు మూడు మార్గాలు కలిసే ప్రదేశం	2


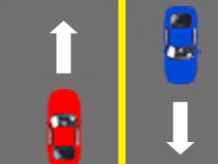

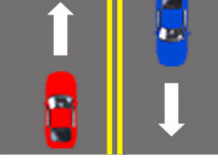
63	ఈచిహ్నం అర్థమేమిటి ?		రైల్వే క్రాసింగ్	టోల గేట్	మనుషులు పనిలో వున్నారు	వైవి వి కాదు	2
64	ఈచిహ్నం అర్థమేమిటి ?		కుడివైపు మలుపు	ఎడమ వైపు మలుపు	సంశయము కలుగజేయు రోడ్డు గల కూడలి	వంకర టింకర రోడ్డు	3
65	ఈచిహ్నం అర్థమేమిటి ?		చుట్టూ తిరిగి వెళ్ళండి	క్రాస్ రోడ్డు ముందువున్నది	ముందుకు మార్గం లేదు	వై ఆకారపు కూడలి	4
66	ఈచిహ్నం అర్థమేమిటి ?		చుట్టూ తిరిగి వెళ్ళండి	క్రాస్ రోడ్డు ముందువున్నది	వై ఆకారపు కూడలి	ముందుకు మార్గం లేదు	3
67	ఈచిహ్నం అర్థమేమిటి ?		ఎడమ వైపునకు రోడ్డు ఉన్నది	ఒక వైపు మాత్రమే ప్రవేశం	టి-జంక్షన్	వెడల్పు రోడ్డు ముందుంది	1
68	ఈచిహ్నం అర్థమేమిటి ?		వంకర టింకర రోడ్డు	పడవల రేవు	ఎత్తుగా లేదా గతుకులుగా ఉన్నరోడ్డు	తిన్నని రోడ్డు ముందు ఉన్నది	2
69	ఈచిహ్నం అర్థమేమిటి ?		ఆవులు సంచరించు ప్రదేశం	ఎద్దుల బండి	గుర్రపు బండి	వైవి వి కాదు	1

70	ఈచిహ్నం అర్థమేమిటి ?		కాపలా ఉన్న రైల్వేక్రాసింగ్ (50-100 మీటర్స్) ముందువున్నది	కాపలా లేని రైల్వేక్రాసింగ్ (50-100 మీటర్స్) ముందువున్నది	కాపలా లేని రైల్వేక్రాసింగ్ (200 మీటర్స్)ముందువున్నది	కాపలా ఉన్న రైల్వేక్రాసింగ్ (200 మీటర్స్)ముందువున్నది	2
71	ఈచిహ్నం అర్థమేమిటి ?		కాపలా ఉన్న రైల్వేక్రాసింగ్ (50-100 మీటర్స్) ముందువున్నది	కాపలా లేని రైల్వేక్రాసింగ్ (50-100 మీటర్స్) ముందువున్నది	కాపలా లేని రైల్వేక్రాసింగ్ (200 మీటర్స్)ముందువున్నది	కాపలా ఉన్న రైల్వేక్రాసింగ్ (200 మీటర్స్)ముందువున్నది	3
72	ఈచిహ్నం అర్థమేమిటి ?		కాపలా ఉన్న రైల్వేక్రాసింగ్ (50-100 మీటర్స్) ముందువున్నది	కాపలా లేని రైల్వేక్రాసింగ్ (50-100 మీటర్స్) ముందువున్నది	కాపలా లేని రైల్వేక్రాసింగ్ (200 మీటర్స్)ముందువున్నది	కాపలా ఉన్న రైల్వేక్రాసింగ్ (200 మీటర్స్)ముందువున్నది	1

73	ఈచిహ్నం అర్థమేమిటి ?		కాపలా ఉన్న రైల్వేక్రాసింగ్ (50-100 మీటర్స్) ముందువున్నది	కాపలా లేని రైల్వేక్రాసింగ్ (50-100 మీటర్స్) ముందువున్నది	కాపలా లేని రైల్వేక్రాసింగ్ (200 మీటర్స్)ముందువున్నది	కాపలా ఉన్న రైల్వేక్రాసింగ్ (200 మీటర్స్)ముందువున్నది	4
74	ఈచిహ్నం అర్థమేమిటి ?		విటయం ముందువున్నది	హోటల్ ముందు ఉన్నది	వెట్రోల్ పంపు ముందు వున్నది	గాలి పట్టుకేంద్రం ముందు ఉన్నది	3
75	ఈచిహ్నం అర్థమేమిటి ?		హోటల్ ముందు ఉన్నది	క్రాస్ రోడ్డు ముందువున్నది	విశ్రాంతి తీసుకునే ప్రదేశం	వైవి అన్ని	1
76	ఈచిహ్నం అర్థమేమిటి ?		ఆసుపత్రి	విశ్రాంతి తీసుకునే ప్రదేశం	తీసుబండ్లారాలు దొరికే ప్రదేశం	వైవి అన్ని	2
77	ఈచిహ్నం అర్థమేమిటి ?		విశ్రాంతి తీసుకునే ప్రదేశం	హాస్పిటల్	ప్రథమ చికిత్సా స్థలము	వైవి అన్ని	2
78	ఈచిహ్నం అర్థమేమిటి ?		హాస్పిటల్	క్రాస్ రోడ్డు ముందువున్నది	ప్రథమ చికిత్సా స్థలము	వాహనాలను నిలుపరచు	3

79	ఈచిహ్నం అర్థమేమిటి ?		ప్రథమ చికిత్సా స్థలము	పక్క రోడ్డులోకి ప్రవేశం లేదు	ప్రధాన మార్గం ముందుంది	ముందుకు వెళ్లే మార్గం లేదు	4
80	ఈచిహ్నం అర్థమేమిటి ?		ముందుకు వెళ్లే మార్గం లేదు	రెండు రోడ్డుల మార్గం	సమాంతర రోడ్డు	ఎడమ పక్క రోడ్డులోకి ప్రవేశం లేదు	4
81	ఈచిహ్నం అర్థమేమిటి ?		పోస్ట్ ఆఫీస్	వాహనాలను నిలుపరాదు	కుడివైపు వాహనములు నిలుపు ప్రదేశం	పైవి ఏవి కావు	3
82	ఈచిహ్నం అర్థమేమిటి ?		పోస్ట్ ఆఫీస్	వాహనాలను నిలుపరాదు	పార్కింగ్ చేయు స్థలం	మోటారు సైకిళ్ళు నిలుపు ప్రదేశం	4
83	ఎదురుగా వస్తున్న వాహనాలకు పోలీస్ అధికారి ఇచ్చిన ఈ సిగ్నల్ కు అర్థమేమిటి ?		ముందుకు వెళ్లండి	ఆగండి	ఎడమకు తిరగండి	కుడికి తిరగండి	2

84	మీరు ఒక జంక్షన్ కు చేరుకున్న సమయానికి ట్రాఫిక్ లైట్లు పనిచేయట్లేదు. పోలీస్ అధికారి ట్రాఫిక్ సూచనలిస్తున్నారు. అలాంటి సమయంలో మీరేం చేయాలి ?		ఎడమవైపుకు మాత్రమే తిరగాలి	కుడివైపుకు మాత్రమే తిరగాలి	పోలీస్ అధికారి చేతికి దగ్గరగా ఆగాలి	స్టాప్ లైన్ కు ముందే ఆగాలి	4
85	వాహనం నడుపుతున్న సమయంలో కుడి వైపునకు మలుపు తిరుగుటకు ఇవ్వవలసిన సరైన సిగ్నల్ ఏది.		సమాంతరంగా కుడి చేతిని వాహనం బయటకు చాపి ఆరచేతిని ముందుకు చూపుతు సిగ్నల్ ఇవ్వాలి	కుడి చేతిని వాహనపు బయటకు చాపి గడియారపు వ్యతిరేక దిశలో తిప్పితూ సిగ్నల్ ఇవ్వాలి	కుడి చేతిని వాహనపు బయటకు చాపి ఆరచేతిని కిందకి పైకి ఉప్పుతూ సిగ్నల్ ఇవ్వాలి	హారన్ మోగిస్తూ ఉండాలి	1
86	డ్రైవర్ బోమ్మలో చూపిన విధంగా సిగ్నల్ ఇస్తే అర్థం ఏమిటి?		అతను ఎడమవైపు మలుపు తిరగడానికి సూచిస్తున్నాడు	అతను కుడి వైపు మలుపు తిరగడానికి సూచిస్తున్నాడు	అతను ఆగడానికి సూచిస్తున్నాడు	నెమ్మదిగా వెళ్ళడానికి సూచిస్తున్నాడు	1
87	డ్రైవర్ బోమ్మలో చూపిన విధంగా సిగ్నల్ ఇస్తే అర్థం ఏమిటి?		అతను ఎడమవైపు మలుపు తిరగడానికి సూచిస్తున్నాడు	అతను కుడి వైపు మలుపు తిరగడానికి సూచిస్తున్నాడు	అతను ఆగడానికి సూచిస్తున్నాడు	నెమ్మదిగా వెళ్ళడానికి సూచిస్తున్నాడు	2
88	డ్రైవర్ బోమ్మలో చూపిన విధంగా సిగ్నల్ ఇస్తే అర్థం ఏమిటి?		అతను ఎడమవైపు మలుపు తిరగడానికి సూచిస్తున్నాడు	అతను కుడి వైపు మలుపు తిరగడానికి సూచిస్తున్నాడు	అతను ఆగడానికి సూచిస్తున్నాడు	నెమ్మదిగా వెళ్ళడానికి సూచిస్తున్నాడు	3
89	డ్రైవర్ బోమ్మలో చూపిన విధంగా సిగ్నల్ ఇస్తే అర్థం ఏమిటి?		అతను ఎడమవైపు మలుపు తిరగడానికి సూచిస్తున్నాడు	అతను కుడి వైపు మలుపు తిరగడానికి సూచిస్తున్నాడు	అతను ఆగడానికి సూచిస్తున్నాడు	నెమ్మదిగా వెళ్ళడానికి సూచిస్తున్నాడు	4
90	డ్రైవర్ బోమ్మలో చూపిన విధంగా సిగ్నల్ ఇస్తే అర్థం ఏమిటి?		అతను ఎడమవైపు మలుపు తిరగడానికి సూచిస్తున్నాడు	అతను కుడి వైపు మలుపు తిరగడానికి సూచిస్తున్నాడు	అతను ఆగడానికి సూచిస్తున్నాడు	వెనుక వాహనమునకు ముందుకు వెళ్ళడానికి సూచిస్తున్నాడు	4

91	రోడ్డు మధ్యలో విరిగిన తెల్లని గీత దేనిని సూచిస్తుంది		ఎప్పుడు దాటాలనిపిస్తే అప్పుడు సిగ్నల్ ఇచ్చి ఆ గీతను దాటవచ్చు	ఓవర్ టీకింగ్ నిషేధం	ఎటువంటి పరిస్థితులలోను గీత దాటి వెళ్లకూడదు	పైవి ఏవి కావు	1
92	రోడ్డు మధ్యలో పొడవుగా గీసిన గీత దేనిని సూచిస్తుంది		క్రాస్ చేయడం సురక్షితం అని మీరు భావించినప్పుడు	ఎడమ ప్రక్క వాహనాలు జాగ్రత్తగా గీత దాటవచ్చును	ఎట్టి పరిస్థితులలోను దాటకూడదు	పైవి అన్నీ	3
93	రోడ్డు మధ్యలో సమాంతరంగా ఉన్న గీతకు ఎడమ వైపు ఉన్న విరిగిన గీతకు అర్థం ఏమిటి		సమాంతర రేఖకు ప్రక్కన ఉన్న వాహనములను ఓవర్ టేక్ చేయుటకు అనుమతించబడినది,	విరిగిన గీతకు ప్రక్కన వున్న వాహనాలను ఓవర్ టేక్ చేయటకు అనుమతించబడినది	ఓవర్ టేక్ రెండు వైపుల చేయవచ్చును	పైవి అన్నీ	2
94	రోడ్డు మధ్యలో నిరంతరంగా ఉండే రెండు పసుపు గీతలు దేనిని సూచిస్తాయి		ఎట్టిపరిస్థితులలోను ఈ గీతల వెంబడి ఓవర్ టేక్ చేయడం యూ టర్న్ తీసుకోవడం అనుమతించరు	వన్ వే రోడ్	క్రాస్ చేయడం సురక్షితం అని మీరు భావించినప్పుడు	పైవి ఏవి కావు	1